

Naam: .....

## HERHALING 4de leerjaar

### TAALBESCHOUWING

Zet de werkwoorden in de juiste vorm. (Denk aan 'werken'!)

De kerstvakantie ..... nu jammer genoeg gedaan. (zijn)

We ..... nu vijf weken les tot de krokusvakantie. (hebben)

Vanaf nu ..... de juf elke dag een blaadje 'Dagelijkse Kost'. (maken)

Dit blaadje ..... ik zo goed mogelijk zonder fouten. (antwoorden)

Het ..... ons om alle leerstof telkens opnieuw te herhalen. (helpen)

### MAAL- EN DEELTAFELS

$7 \times 7 = \dots\dots$

$9 \times 7 = \dots\dots$

$3 \times 8 = \dots\dots$

$9 \times 2 = \dots\dots$

$3 \times 18 = \dots\dots$

$30 : 6 = \dots\dots$

$24 : 4 = \dots\dots$

$63 : 3 = \dots\dots$

$27 : 9 = \dots\dots$

$64 : 4 = \dots\dots$

### BEWERKINGEN – SCHRIJF TUSSENSTAPPEN!

$1820 + 2170 = \dots\dots\dots$

$2045 + 308 = \dots\dots\dots$

$4006 + 2104 = \dots\dots\dots$

$2170 - 1020 = \dots\dots\dots$

$2045 - 308 = \dots\dots\dots$

### KLOKREKENEN



### METEN

Vul aan.

1 kg	½ kg
400 g + .....	100 g + .....
250 g + .....	250 g + .....
700 g + .....	310 g + .....

## WERELDORIËNTATIE

Noteer de provinciehoofdsteden bij de provincies.

Provincies	Provinciehoofdsteden
West-Vlaanderen	.....
Oost-Vlaanderen	.....
Antwerpen	.....
Limburg	.....
Vlaams-Brabant	.....

## TAALBESCHOUWING

Ga in de zinnen op zoek naar de persoonsvorm. Schrijf van de persoonsvorm de stam en de infinitief.

1. Dit schooljaar gaat het vierde leerjaar niet op zeeklassen.

Persoonsvorm	Stam	Infinitief

2. Elke woensdag is het fruitdag op school.

Persoonsvorm	Stam	Infinitief

3. Elke maandag starten we met het invullen van onze agenda.

Persoonsvorm	Stam	Infinitief

## SPELLING

Schrijf de laatste letter van het woord. Eindigt het op een d of een t? TIP: VERLENGEN!!

paar...

hoof...

gei...

kas...

wors...

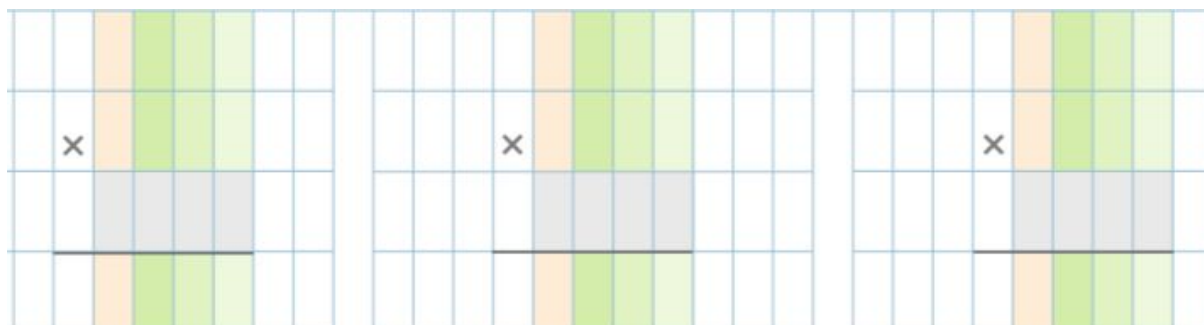
## CIJFEREN

Los de oefeningen cijferend op.

$3 \times 1029 = \dots$

$4 \times 791 = \dots$

$7 \times 238 = \dots$



## KLOKREKENEN



## METEN

Vul aan.

1 l	½ l
40 cl + .....	40 cl + .....
2 dl + .....	2 dl + .....
62 cl + .....	31 cl + .....

## WERELDORIËNTATIE

Noteer de provinciehoofdsteden bij de provincies.

Provincies	Provinciehoofdsteden
Waals-Brabant	.....
Henegouwen	.....
Namen	.....
Luik	.....
Luxemburg	.....

## TAALBESCHOUWING

Staan deze zinnen in de tegenwoordige tijd (t.t.) of verleden tijd (v.t.)? Omcirkel.

- Donderdagochtend kwamen veel kinderen te laat op school. t.t. – v.t.
- Het sneeuwt al de hele dag. t.t. – v.t.
- Mocht jij wel zo laat opblijven gisteren? t.t. – v.t.
- Keek jij vorige week elke dag naar tv? t.t. – v.t.
- Ik lees elke avond 20min in een boek. t.t. – v.t.

## BEWERKINGEN – SCHRIJF TUSSENSTAPPEN!

1820 x 3 = .....

976 x 4 = .....

4042 x 2 = .....

1821 : 3 = .....

864 : 4 = .....

## KLOKREKENEN



⋮



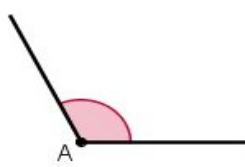
⋮



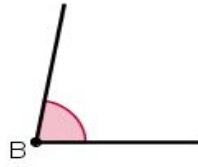
⋮

## MEETKUNDE

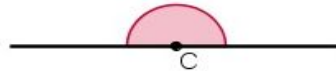
Onderzoek met je geodriehoek. Is het een rechte, scherpe of stompe hoek? Noteer.



.....



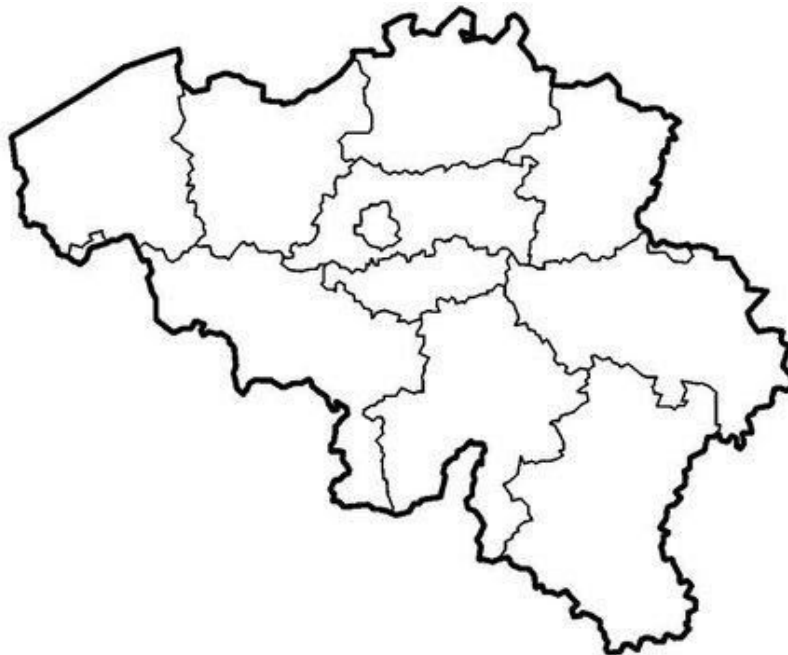
.....



.....

## WERELDORIËNTATIE

Noteer de naam van de provincies op de juiste plaats in het kaartje.



## TAALBESCHOUWING

Staan deze zinnen in het enkelvoud (enk) of het meervoud (mv)? Omcirkel.

1. Donderdagochtend kwamen veel kinderen te laat op school. enk - mv
2. Het sneeuwt al de hele dag. enk - mv
3. Mochten jullie wel zo laat opblijven gisteren? enk - mv
4. Keek jij vorige week elke dag naar tv? enk - mv
5. Ik lees elke avond 20 min in een boek. enk - mv

## BREUKEN

Breuk nemen van een getal. Maak de berekening. Noteer tussenstappen!

$2/4$  van 240 = .....

$1/3$  van 390 = .....

$4/7$  van 560 = .....

$2/4$  van 640 = .....

$5/9$  van 819 = .....

## KLOKREKENEN



⋮



⋮



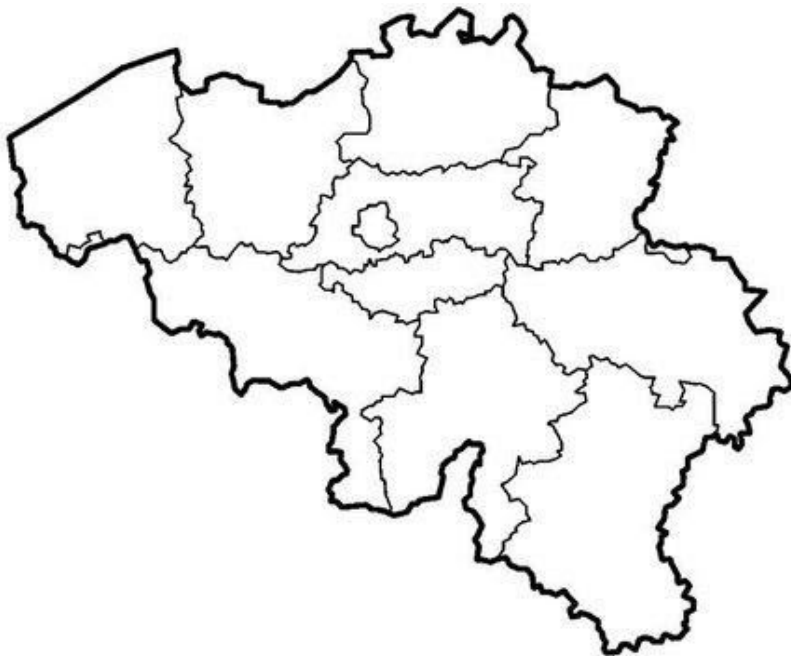
⋮

## MEETKUNDE

Teken op een apart blad een rechthoek met een omtrek van 12 cm. DENK GOED NA!

## WERELDORIËNTATIE

Kleur het Vlaams gewest groen, het Waals gewest blauw en het Brussels Hoofdstedelijk gewest geel.



## TAALBESCHOUWING

Wie/wat is het onderwerp in de zin? Kleur dit of zet er een lijntje onder.

1. Mijn favoriete programma is Thuis.
2. Nonkel Fik en Tante Mieke hebben vier kinderen.
3. Spaghetti is het lievelingseten van vele kindjes.
4. Sneeuwballengevecht vind ik super.
5. Mijn hele familie houdt ervan om gezellig samen te barbecueën.

## SPELLING

ou of au? Vul de juiste letters in het woord in.

m.....wen    p.....w    kl.....w    k.....    gr.....w


## CIJFEREN

Los de oefeningen cijferend op.

$8203 : 4 = \dots$

$9261 : 3 = \dots$

$7103 : 5 = \dots$



## KLOKREKENEN

Bereken hoe lang de bus heeft gereden.

1. De bus vertrekt om 10.35 en komt aan om 11.00 uur.

.....  
**Antwoord:** De bus heeft ..... gereden.

2. De bus vertrekt om 09.25 en komt aan om 10.15 uur.

.....  
**Antwoord:** De bus heeft ..... gereden.

