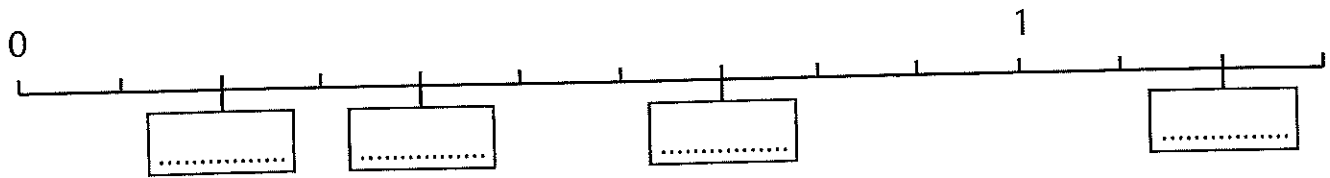


L4

Kommagetallen

1 Vul de lijn verder aan.



2 Rangschik de getallen van klein naar groot.

2 2,3 3,2 0,3 3
 < < < <

16 1,6 16,4 6,1 4,6
 < < < <

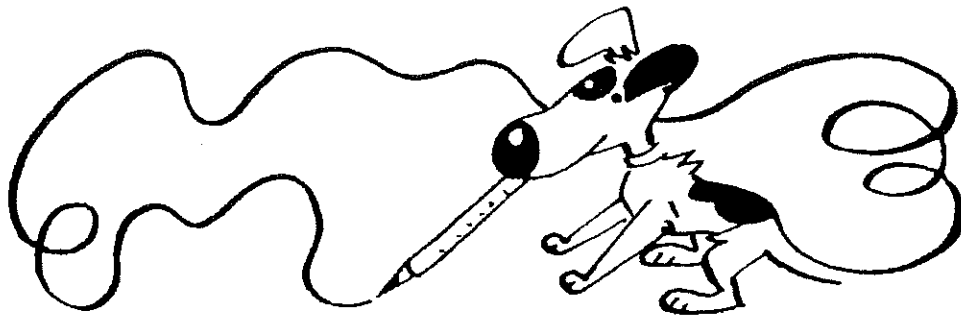
1,4 1,8 2,9 0,7 4,1
 < < < <

3 Tel het getal er telkens bij!

+ 1	2,3					8,3
+ 0,3			3,4			
+ 0,8				4,5		
+ 1,5		3,2				10,7

4 Welke nullen zijn te veel? Zet er een streep door.

0,3 3,0 17,0 10 100
 100,0 104 170 0,5 75,0




1 Tussen welke natuurlijke getallen zitten deze kommagetallen?

6	6,4	7	14,85	9,4
.....	3,5	96,96	79,35
.....	22,8	89,24	0,24

2 Verbind met de juiste plaats op de getallenlijn.

17,2	17,06	17,5	17,65	17,9
------	-------	------	-------	------

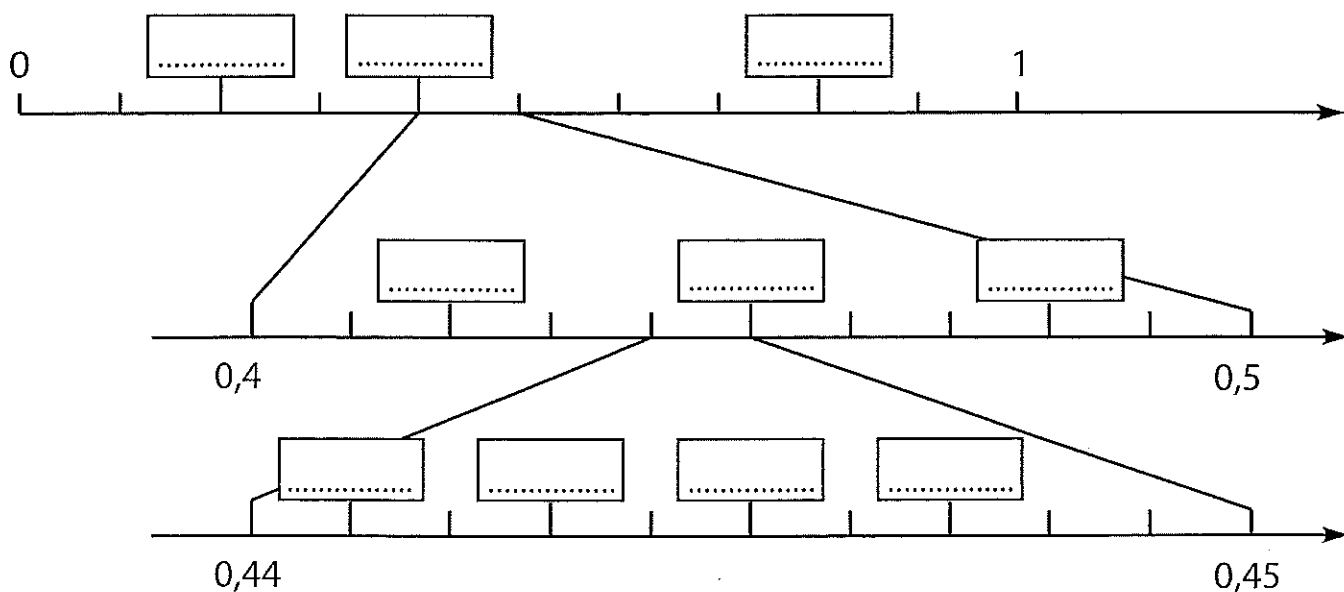


3 Vul in: <, = of >.

8,84	9	19	1,9	47,03	48
0,83	1	18,80	18,8	3,07	3,7
20,17	20	112	1,12	12	12,00

NAAM: _____

I Vul de getallenlijnen verder aan.



J Tel het getal er telkens bij!

- + 1
- + 0,1
- + 0,01
- + 0,001

3,123					
		2,143			
			8,94		
		6,998			

K Rangschik de getallen van klein naar groot.

3,17 3,050 3,5 3,285 3,007

..... < < <

8,9 8,905 8,995 8,095 8

..... < < <